



ΜΑΘΗΜΑΤΙΚΑ Α΄ ΤΑΞΗΣ

1.7 «Πρόσθεση και ανάλυση των αριθμών μέχρι το 5»

ΟΝΟΜΑ:.....



Πόσα ζώακια έρχονται από αριστερά και πόσα από δεξιά; Πόσα είναι συνολικά; Συμπλήρωσε τα κουτάκια γράφοντας τους αριθμούς:

...από αριστερά ...από δεξιά

...συνολικά

...από αριστερά ...από δεξιά

...συνολικά

...από αριστερά ...από δεξιά

...συνολικά

...από αριστερά ...από δεξιά

...συνολικά

...από αριστερά ...από δεξιά

...συνολικά

...από αριστερά ...από δεξιά

...συνολικά

...από αριστερά ...από δεξιά

...συνολικά

...από αριστερά ...από δεξιά

...συνολικά

...από αριστερά ...από δεξιά

...συνολικά




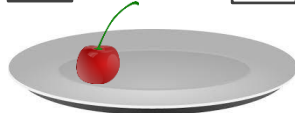
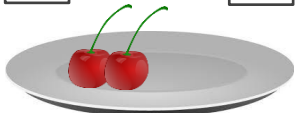





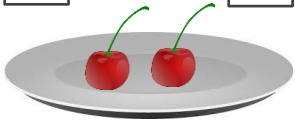
Γράψε σε κάθε κουτάκι τον αριθμό που είναι και στο πρώτο:

0									
1									
2									

3									
4									
5									



Από τα πιατάκια λείπουν κερασάκια. Δες πόσα θα έπρεπε να είναι, πόσα είναι και ζωγράφισε αυτά που λείπουν. Μην ξεχάσεις να συμπληρώσεις και τα κουτάκια, γράφοντας τους κατάλληλους αριθμούς:

<p>...υπάρχουν <input type="checkbox"/> ...λείπουν <input type="checkbox"/></p>  <p>5</p> <p>...συνολικά</p>	<p>...υπάρχουν <input type="checkbox"/> ...λείπουν <input type="checkbox"/></p>  <p>4</p> <p>...συνολικά</p>	<p>...υπάρχουν <input type="checkbox"/> ...λείπουν <input type="checkbox"/></p>  <p>3</p> <p>...συνολικά</p>
<p>...υπάρχουν <input type="checkbox"/> ...λείπουν <input type="checkbox"/></p>  <p>5</p> <p>...συνολικά</p>	<p>...υπάρχουν <input type="checkbox"/> ...λείπουν <input type="checkbox"/></p>  <p>4</p> <p>...συνολικά</p>	<p>...υπάρχουν <input type="checkbox"/> ...λείπουν <input type="checkbox"/></p>  <p>2</p> <p>...συνολικά</p>
<p>...υπάρχουν <input type="checkbox"/> ...λείπουν <input type="checkbox"/></p>  <p>5</p> <p>...συνολικά</p>	<p>...υπάρχουν <input type="checkbox"/> ...λείπουν <input type="checkbox"/></p>  <p>4</p> <p>...συνολικά</p>	<p>...υπάρχουν <input type="checkbox"/> ...λείπουν <input type="checkbox"/></p>  <p>2</p> <p>...συνολικά</p>



Μπορείς να βρεις και να γράψεις τον προηγούμενο και τον επόμενο αριθμό από αυτόν που είναι στο κουτάκι;

